


**TD1 – Document C**

A la récréation, Dimitri joue aux billes. Au début de la partie, il possède trente-sept billes. A la fin, il a soixante-douze billes. Combien a-t-il gagné de billes ?

Recherches/calculs :



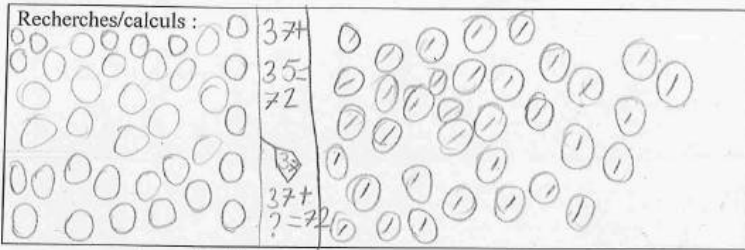
A.

Réponse : Dimitri a eu 39 billes.....

REPR		SOL	
Fig.	Num.	Num.	PB
.	1	0	1

B.

A la récréation, Dimitri joue aux billes. Au début de la partie, il possède trente-sept billes. A la fin, il a soixante-douze billes. Combien a-t-il gagné de billes ?



Réponse : Dimitri gagne 35 billes.....

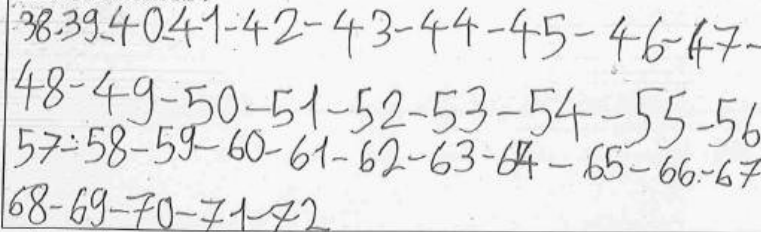
REPR		SOL	
Fig.	Num.	Num.	PB
.	1	1	1

Texte B

C.

A la récréation, Dimitri joue aux billes. Au début de la partie, il possède trente-sept billes. A la fin, il a soixante-douze billes. Combien a-t-il gagné de billes ?

Recherches/calculs :



Réponse : 35.....

REPR		SOL	
Fig.	Num.	Num.	PB
.	1	1	0

A la récréation, Dimitri joue aux billes. Au début de la partie, il possède trente-sept billes. A la fin, il a soixante-douze billes. Combien a-t-il gagné de billes ?

Recherches/calculs :

Je cherche combien  
Dimitri a gagné de billes.



Réponse : Il a gagné 35 billes

REPR		SOL	
Fig.	Num.	Num.	PB
1	0	1	1

D.

A la récréation, Dimitri joue aux billes. Au début de la partie, il possède trente-sept billes. A la fin, il a soixante-douze billes. Combien a-t-il gagné de billes ?

Recherches/calculs :

Je cherche combien a-t-il gagné de billes.

$$\begin{array}{r}
 37 + ? = 72 \\
 37 \\
 + 35 \\
 \hline
 72 \\
 37 + 3 = 40
 \end{array}$$

Réponse : Il a gagné trente-cinq billes

REPR		SOL	
Fig.	Num.	Num.	PB
*	1	1	1

E.

F.

A la récréation, Dimitri joue aux billes. Au début de la partie, il possède trente-sept billes. A la fin, il a soixante-douze billes. Combien a-t-il gagné de billes ?

Recherches/calculs :

$$\begin{array}{r} 372 \\ - 37 \\ \hline 335 \end{array}$$

Réponse : Il a gagné 35 billes.

REPR		SOL	
Fig.	Num.	Num.	PB
.	1	1	1